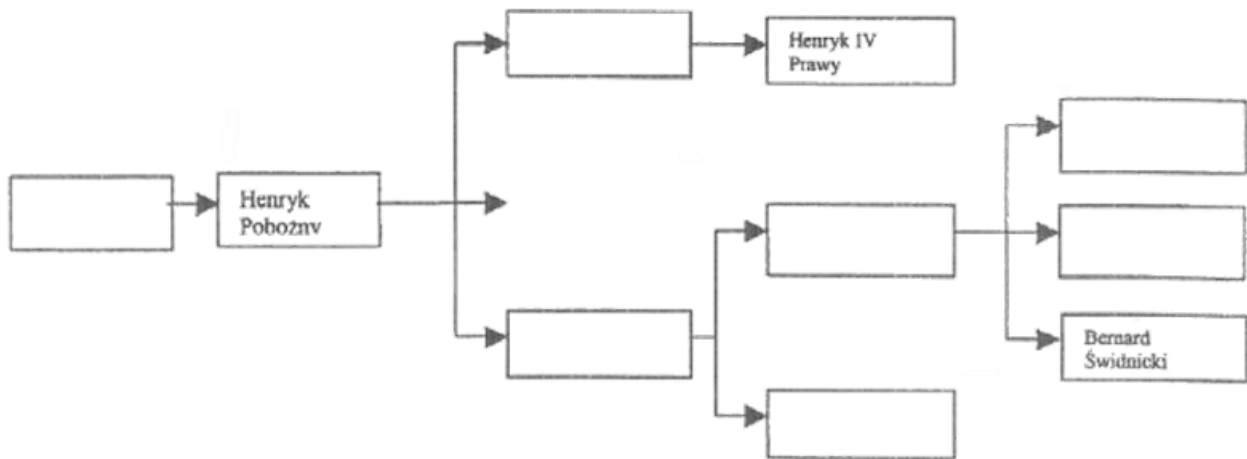


Sudety

22.11.2003 r. — część pisemna

1. Wstaw imiona władców w puste miejsca drzewa genealogicznego.



Bolesław II Łysy (Rogatka), Bolko I Surowy, Bolko II Ziębicki, Henryk Brodaty, Henryk III Biały, Henryk I Jaworski, Henryk V Gruby.

2. Uzupełnij tabelkę:

wojna	Bitwa	dowódca	data
napoleońskie			
husyckie			
siedmioletnia			

nad Bobrem, oblężenie Kłodzka, pod Starym Wielistawem, feldmarsz. G. L. v. Blücher, ks. Jan Ziębicki, generał E. G. v. Laudon, 1428, 1760, 1813.

3. Uporządkuj podane wydarzenia w kolejności chronologicznej:

- a. budowa Kościołów Pokoju,
- b. bunty tkaczy śląskich,
- c. przejście Śląska pod władzę Prus,
- d. sekularyzacja klasztorów na Śląsku,
- e. wprowadzenie zasady „czyja władza, tego religia”.

4. Poprowadź zakonników na miejsca odpowiednie – zgodnie z regałami zakonnymi – do założenia klasztorów

1. benedyktyn.....
2. cysters.....
3. franciszkanin.....



5. Wybierz główne czynniki miastotwórcze miast: (jeden czynnik dla miasta)

1. Sobótka
2. Jaworzyna Śl.
3. Bolesławów
- a. położenie przy brodzie przez rzekę,
- b. położenie przy skrzyżowaniu szlaków handlowych,
- c. węzeł kolejowy,
- d. funkcjonowanie targu,
- e. złoża rud metali.

6. Gnejs to skała:

- a. osadowa,
- b. metamorficzna,
- c. magmowa.

7. Z jakimi mezoregionami sąsiadują Góry Kaczawskie?

8. Jakie pasma górskie rozdziela przełęcz Polskie Wrota?

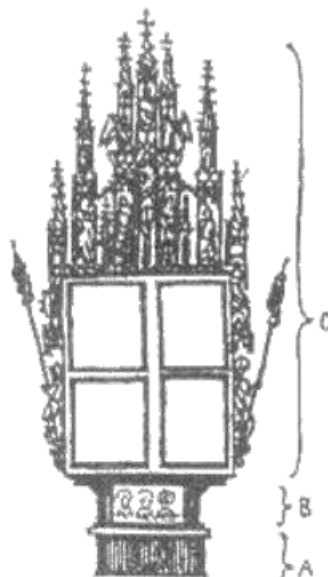
9. Wskaż najwyższą kulminację:

- a. Gór Złotych.....
- b. Gór Kamiennych
- c. Pogórza Kaczawskiego

10. Podaj trzy przykłady zjawisk krasowych w Sudetach.

11. Nazwij zaznaczone części ołtarza

- a.
- b.
- c.



12. Określ styl przedstawionej na rysunku budowli i wybierz przedział czasowy w którym ją wzniesiono:

styl: datowanie:

- | | |
|---------------|---------------|
| a. 966-1200, | b. 1200-1250, |
| c. 1250-1350, | d. 1350-1420, |
| e. 1420-1520, | f. 1520-1570, |
| g. 1570-1650, | h. 1650-1710, |
| i. 1710-1760, | j. 1830-1910, |
| k. 1910-1945. | |



13. W jakich miejscowościach znajdują się muzea, prezentujące kolekcje tematyczne:

1. zbiory ornitologii,
2. wnętrze sklepu kolonialnego,
3. historia niecenienia ognia,
 - a. Bystrzyca Kłodzka,
 - b. Duszniki Zdrój,
 - c. Jelenia Góra (Cieplice),
 - d. Jelenia Góra (Sobieszów),
 - e. Świdnica,
 - f. Ziębice.

14. Rozpoznaj wizerunki świętych:



15. Do jakiej wysokości w Karkonoszach sięga piętro subalpejskie?

16. Wymień parki krajobrazowe w Sudetach Środkowych.

17. Co było powodem ustanowienia rezerwatów przyrody:


- a. Jeziorko Daisy,
- b. Góra Mitek,
- c. Nowa Morawa.

18. Główne zagrożenia dla środowiska przyrodniczego w Sudetach Zachodnich, wymienić trzy.

19. Gdzie w Sudetach poprowadzić wycieczkę aby pokazać:

- a. brzozę kartowatą,
- b. lilię złotogłów,
- c. jarzab brekinie.

20. Jak zachować się w górach, gdy zaskoczy nas burza z wyładowaniami atmosferycznymi?; podać trzy istotne wskazówki.
21. Jak rozumieć komunikat GOPR o trzecim stopniu zagrożenia lawinowego?
22. Kiedy należy przystąpić do reanimacji?
23. Podaj nazwy dwóch schronisk zlokalizowanych w Rudawach Janowickich.
24. Podaj kolor i punkty końcowe szlaka Zamków Piastowskich.
25. Wymień turystyczne przejścia graniczne w Sudetach Środkowych.
26. O czym informują znaki?



27. Określić zwięźle, ale wyczerpująco uprawnienia przewodnika górskiego klasy trzeciej.
28. Określ lokalizację i wyjaśnij pochodzenie nazwy schroniska „Andrzejówka”.
29. Podaj nazwy regionalnych organizacji turystycznych działających w Sudetach na przełomie XIX i XX w., określonych skrótami:
 - RGV,
 - GGV,
 - EGV.
30. Najstarsze w Sudetach schronisko turystyczne to: